
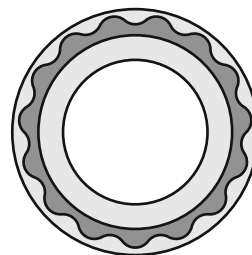
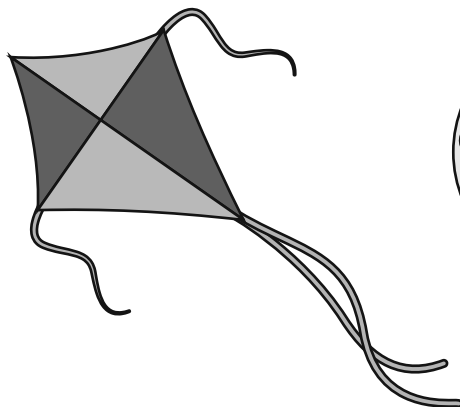



Пригадай і намалюй позначки на картинках.



Заповни розрахунками клітинки таблиці.

	2	4	1	5	6	3
+1						
-2						
+3						

Всі права захищено, виключно для некомерційного використання покупцями основної версії зошита «Цікава математика», видавництво Вільний Вітер, www.vilny-viter.com.ua

Всі права захищено, виключно для некомерційного використання покупцями основної версії зошита «Цікава математика», видавництво Вільний Вітер, www.vilny-viter.com.ua