






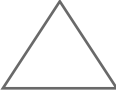


Розмісти символи в нижній таблиці в такому ж порядку.

Розв'яжи задачу.



На стіні висіло 8 фотографій. Декілька прибрали і залишилося 5. Скільки фотографій прибрали?

--	--	--	--	--

Всі права захищено, виключно для некомерційного використання покупцями основної версії зошита «Цікава математика», видавництво Вільний Вітер, www.vilnyi-viter.com.ua

Всі права захищено, виключно для некомерційного використання покупцями основної версії зошита «Цікава математика», видавництво Вільний Вітер, www.vilnyi-viter.com.ua