

Обчисли приклади.

$2 + 4 = \square$

$4 - 2 = \square$

$4 - 4 = \square$

$6 - 1 = \square$

$3 + 1 = \square$

$3 + 3 = \square$

$8 + 1 = \square$


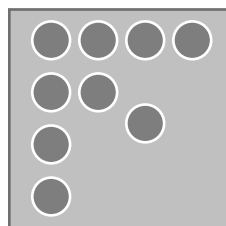
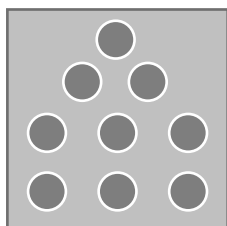








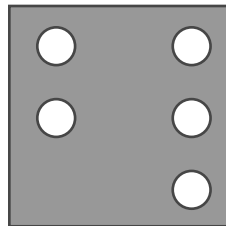
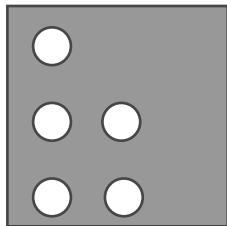
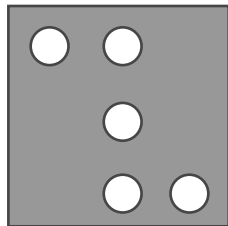
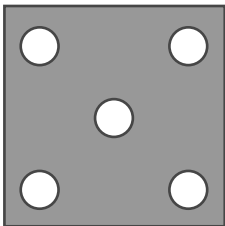
$5 + 3 = \square$

$5 + 5 = \square$

$7 - 2 = \square$   
 $6 + 4 = \square$   
 $7 - 2 = \square$

$3 + 7 = \square$   
 $9 - 2 = \square$   
 $8 - 7 = \square$

Закресли зайві малюнки у кожному ряду.



Всі права захищено, виключно для некомерційного використання покупцями основної версії зошита «Цікава математика», видавництво Вільний Вітер, www.vilnyi-viter.com.ua

Всі права захищено, виключно для некомерційного використання покупцями основної версії зошита «Цікава математика», видавництво Вільний Вітер, www.vilnyi-viter.com.ua