



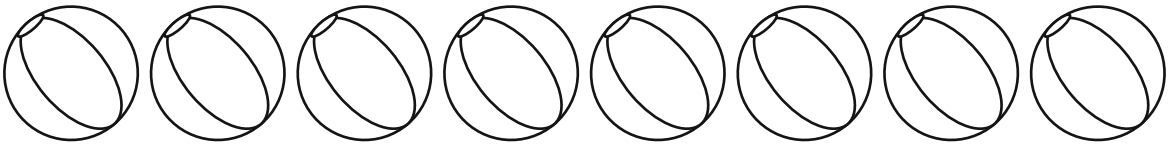


Розфарбуй у кожній рамці кількість предметів, що відповідає результату прикладів.

$\begin{array}{r} 1 \\ + \\ 7 \end{array}$	
$\begin{array}{r} 10 \\ - \\ 5 \end{array}$	
$\begin{array}{r} 3 \\ + \\ 6 \end{array}$	
$\begin{array}{r} 5 \\ + \\ 3 \end{array}$	
$\begin{array}{r} 5 \\ + \\ 5 \end{array}$	

Підкресли, якими цифрами відрізняються ці множини чисел?

1 6 3 4 0 5 6 0 7 8
 2 4 5 6 7 8 4 9 0 1
 1 3 9 5 4 3 2 1 9 6
 7 3 3 4 8 1 6 2 5 7

1 0 3 4 0 5 6 2 7 8
 2 4 5 6 7 6 3 8 0 1
 1 3 9 5 6 3 2 1 8 6
 7 3 3 4 9 1 6 2 5 7